

INI

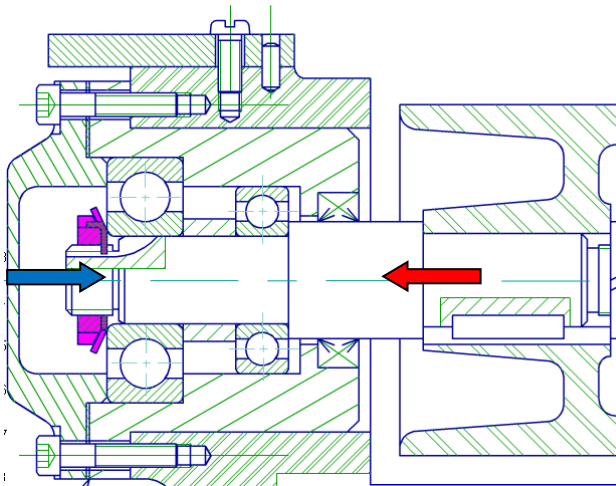
LIAISON

Montage des roulements – Exercice

Nom :

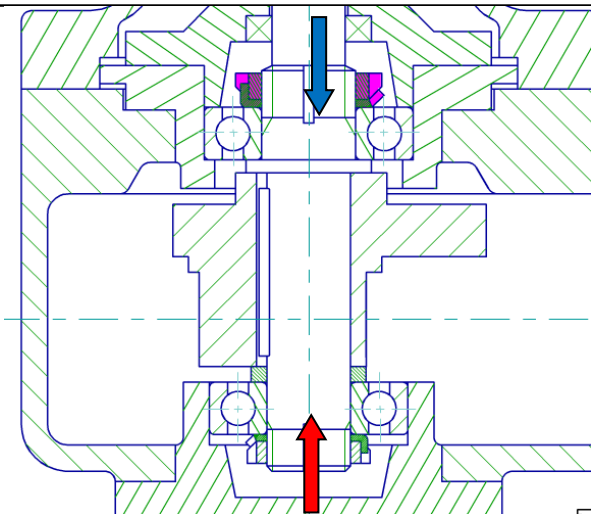
Après avoir réalisé l'exercice proposé sur l'ordinateur, complétez la feuille en réalisant le travail suivant

- ³⁵/₁₇ Tracez le croquis du montage et indiquez par un symbole les arrêts fixes (X) et démontables (→)
- ³⁵/₁₇ Indiquez sur le croquis les bagues montées serrées (**Trait rouge**) et montées glissantes (**Trait bleu**)
- ³⁵/₁₇ Poursuivez les flèches du dessin symbolisant les efforts sur l'arbre, en passant par les éléments qui transmettent cet effort.
- ³⁵/₁₇ Listez le nom des éléments assurant les arrêts axiaux.
- ³⁵/₁₇ Listez les éléments assurant éventuellement l'étanchéité



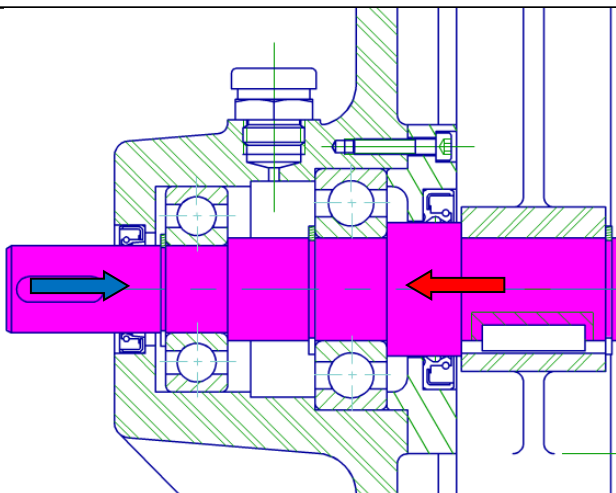
Croquis du montage

Étanchéité



Croquis du montage

Étanchéité



Croquis du montage

Étanchéité